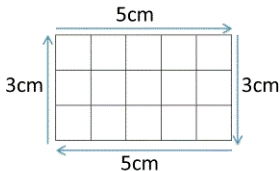


Mesures de périmètres

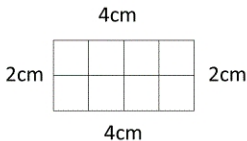
Calculer le périmètre d'une figure, c'est mesurer la **longueur totale de son contour**. Pour calculer la longueur d'un rectangle, on additionne les mesures de chacun des 4 côtés (soit $5 + 5 + 3 + 3 = 16$ cm de périmètre).

Formule du périmètre d'un rectangle : $(L + l) \times 2$ ou $2L + 2l$



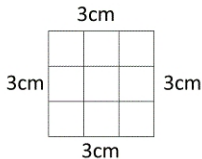
Indique le périmètre des rectangles suivants :

1)



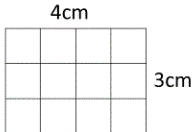
Périmètre = 12 cm

2)




Périmètre = 12 cm

3)



Périmètre = 14 cm

4)




Périmètre = 16 cm

Mesures de périmètres

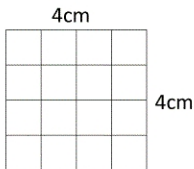
Indique le périmètre des rectangles suivants :

1)



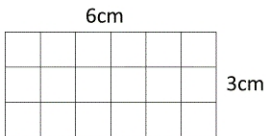
Périmètre = 14 cm

2)



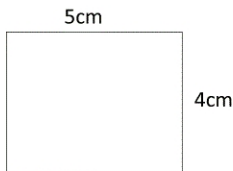
Périmètre = 16 cm

3)



Périmètre = 18 cm

4)



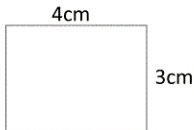
Périmètre = 18 cm

5)



Périmètre = 18 cm

6)



Périmètre = 14 cm

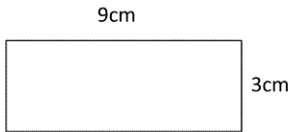
Formule du périmètre d'un rectangle : $(L + l) \times 2$ ou $2L + 2l$

Mesures de périmètres

Indique le périmètre des rectangles suivants :

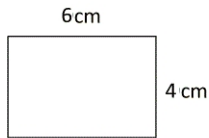
Attention, les mesures indiquées ne sont pas réelles !

1)



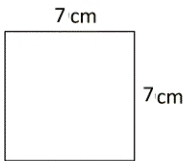
Périmètre = 24 cm

2)



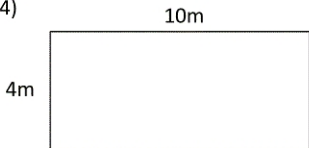
Périmètre = 20 cm

3)



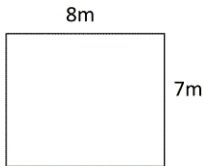
Périmètre = 28 cm

4)



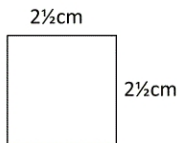
Périmètre = 28 m

5)



Périmètre = 30 m

6)



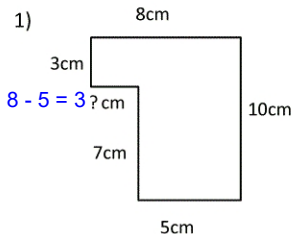
Périmètre = 10 cm

Mesures de périmètres

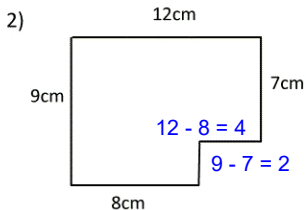
Indique le périmètre des figures suivantes :

il faut d'abord calculer les mesures manquantes.

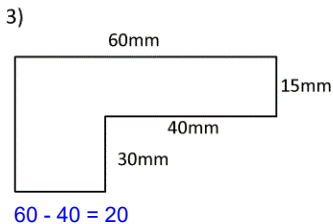
Attention, les mesures indiquées ne sont pas réelles !



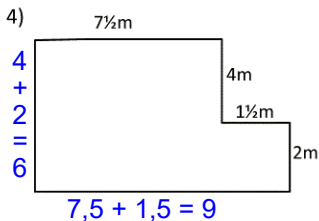
Périmètre = 36 m



Périmètre = 42 cm



Périmètre = 210 mm



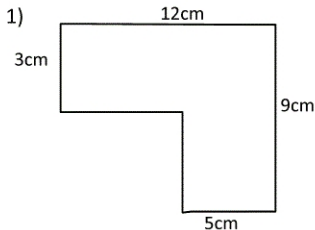
Périmètre = 30 m

Mesures de périmètres

Indique le périmètre des figures suivantes :

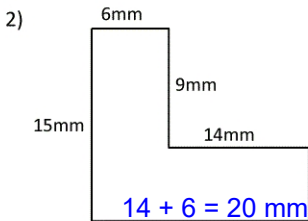
il faut d'abord calculer les mesures manquantes.

Attention, les mesures indiquées ne sont pas réelles !



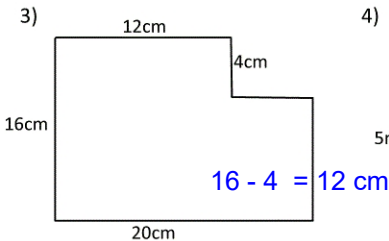
$$12 + 9 + 5 + 3 = 29$$

Périmètre = 29 cm



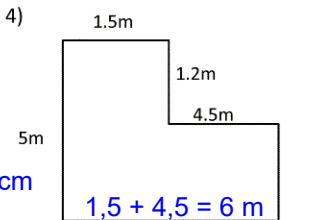
$$6 + 9 + 14 + 20 + 15 = 64$$

Périmètre = 64 mm



$$12 + 4 + 12 + 20 + 16 = 64$$

Périmètre = 64 cm



$$1,5 + 1,2 + 4,5 + 3,8 + 6 + 5 = 22$$

Périmètre = 22 m