

Numération 2: Les fractions

Je connais les différentes écritures d'une fraction

Ecris en lettres les fractions suivantes.

$\frac{1}{2}$:

$\frac{1}{3}$:

$\frac{3}{4}$:

$\frac{1}{10}$:

$\frac{3}{100}$:

Relie par une flèche tracée au crayon et à la règle :

Nomme les parties de la fraction

Un Demi



$\frac{1}{4}$

Un Quart



$\frac{1}{10}$

Un Dixième



$\frac{1}{100}$

Un Centième

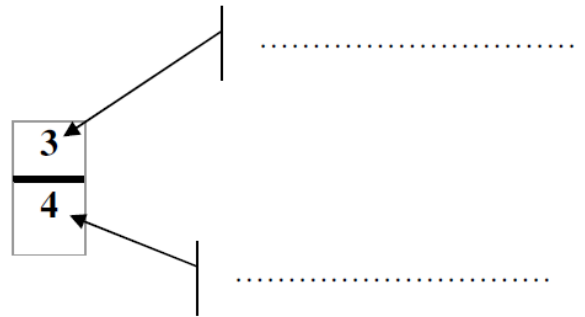


$\frac{1}{2}$

Un Tiers



$\frac{1}{3}$



3

ECRIS CES FRACTIONS EN CHIFFRES OU EN LETTRES.

$\frac{3}{10}$ _____

$\frac{2}{3}$ _____

$\frac{1}{2}$ _____

$\frac{25}{100}$ Vingt-cinq centièmes



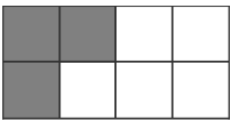
$\frac{5}{4}$ Cinq quarts

$\frac{4}{12}$ Quatre douzièmes

1

ECRIS LES FRACTIONS CORRESPONDANTES A LA PARTIE COLOREE.

/8

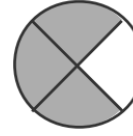


$\frac{\quad}{\quad}$

$\frac{\quad}{\quad}$

$\frac{\quad}{\quad}$

$\frac{\quad}{\quad}$



$\frac{\quad}{\quad}$

$\frac{\quad}{\quad}$

$\frac{\quad}{\quad}$

$\frac{\quad}{\quad}$