


Date: _____

Problèmes dictés


- 1 a b c

Résoudre des problèmes

- 2 Dans ce parking, il y a 25 voitures garées. Combien de places libres y a-t-il ?

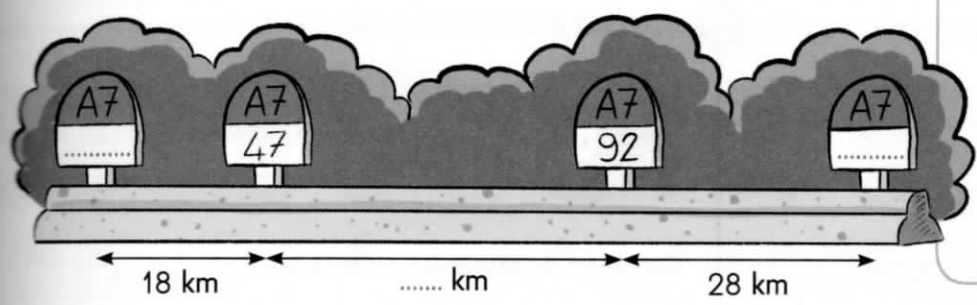


- 3 Tu as besoin de 100 morceaux de sucre. Dans cette boîte, il n'y en a que 60. Combien de morceaux de sucre faut-il prendre dans une autre boîte ?

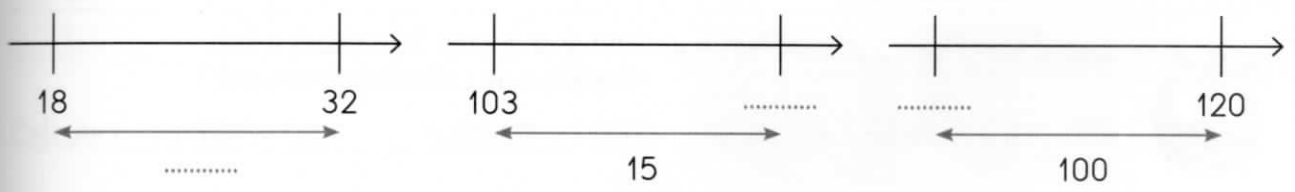


Résoudre des problèmes de distance

- 4 Complète avec les bonnes indications.



- 5 Complète chaque schéma en indiquant la distance ou les nombres qui manquent.



- 6 Voici un schéma de l'autoroute A6.

- a. Quelle est la distance entre Mâcon et Beaune ?
.....
- b. Quelle est la distance entre Mâcon et Avallon ?
.....
- c. Entre Beaune et Lyon, il y a 144 km. Quelle est la distance entre Mâcon et Lyon ?
.....

