

Vendredi 3 mars :

Calcul mental :

Pour s'entraîner à la maison :

<https://calculatice.ac-lille.fr/exercices/>

Dictée :

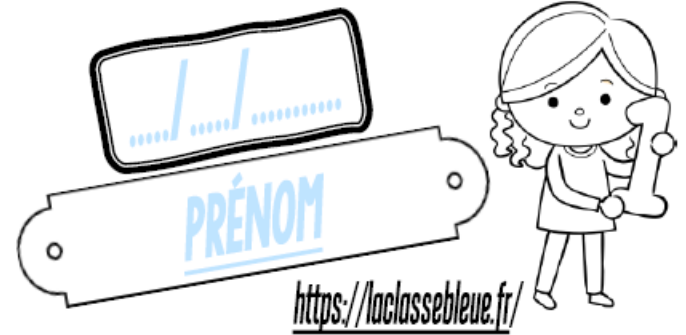
Au Moyen-âge, les seigneurs avaient des châteaux. Ils aimaient chasser et faire la guerre. Les paysans travaillaient pour le seigneur. Ils cultivaient des céréales et faisaient de l'élevage. Les serfs vivaient dans de petites maisons et mangeaient de la bouillie, du gibier, du pain et des fruits. La nourriture venait parfois à manquer.

Géométrie :

Voir ci-dessous

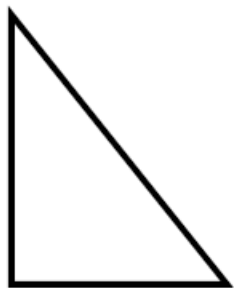
Geométrie

CMI

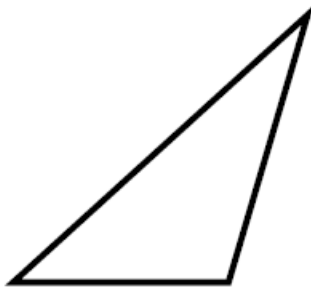


① Ces figures sont-elles des triangles particuliers ?

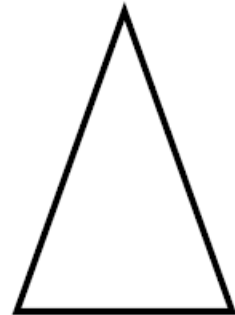
Si oui,
marque leurs propriétés !



Oui Non



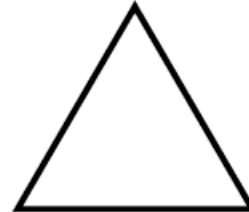
Oui Non



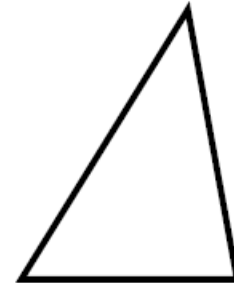
Oui Non



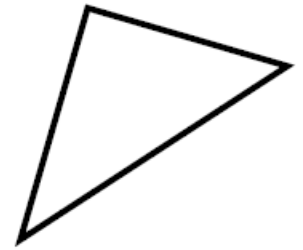
Oui Non



Oui Non




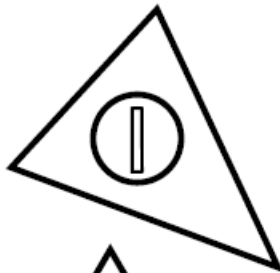
Oui Non






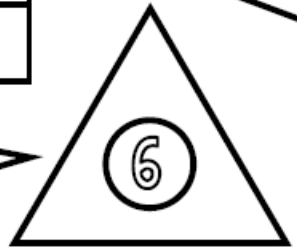
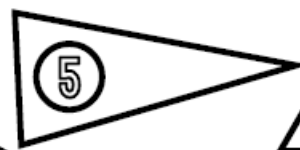
Oui Non

② Colorie de la bonne couleur.

<u>triangle rectangle</u>	<u>triangle isocèle</u>	<u>triangle équilatéral</u>
BLEU	JAUNE	ROUGE



Un de ces triangles est isocèle et rectangle à la fois colorie-le en violet !

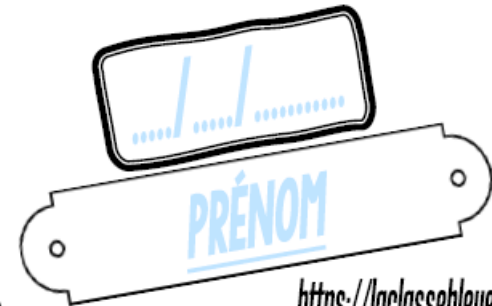


③ Dans ton cahier, trace un triangle rectangle.



Geométrie

CM2



<https://laclassobleue.fr/>

Si oui,
marque leurs propriétés!


① Ces figures sont-elles des triangles particuliers ?




Oui Non




Oui Non



Oui Non



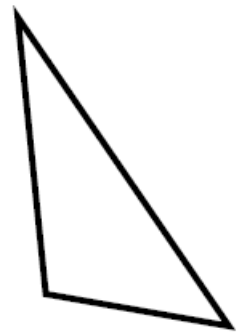
Oui Non



Oui Non



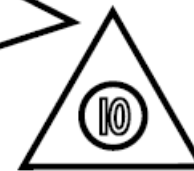
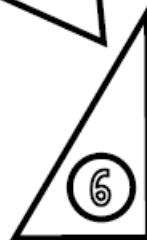


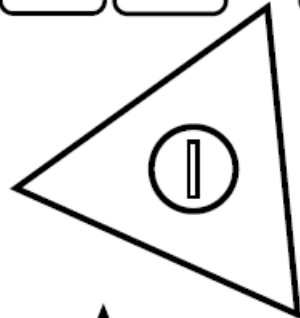
Oui Non



Oui Non

② Colorie de la bonne couleur.

<u>triangle rectangle</u>	<u>triangle isocèle</u>	<u>triangle équilatéral</u>
BLEU	JAUNE	ROUGE



Un de ces triangles est isocèle et rectangle à la fois colorie-le en violet!



③ Dans ton cahier, trace un triangle rectangle.