



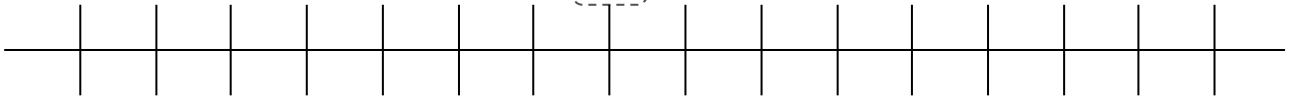
Numération

Fiche 1

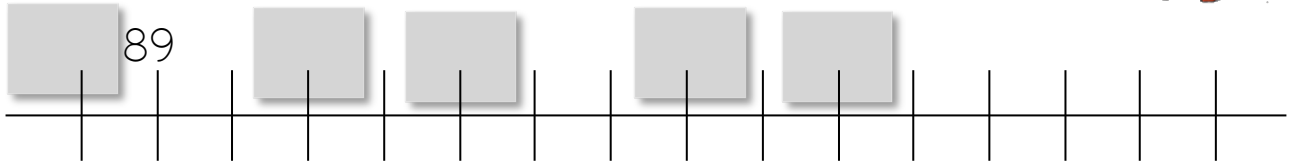
Les nombres de 0 à 99

1 Place les nombres suivants sur la ligne graduée : 92 - 86 - 98 - 96 - 95

93



2 Complète uniquement les cases grises.



3 Écris ces nombres en lettres.



93 : _____ 97 : _____

92 : _____ 99 : _____

90 : _____ 79 : _____

84 : _____ 77 : _____

4 Écris ces nombres en chiffres.

quatre-vingt-onze : _____

quatre-vingt-dix-huit : _____

quatre-vingt-un : _____

quatre-vingt-quinze : _____

quatre-vingt-sept : _____

quatre-vingt-dix : _____






Numération

Les nombres de 0 à 99

1 Colorie le bon nombre de dizaines et le bon nombre d'unités.

92	10 10 10 10 10 10 10 10 10	89	10 10 10 10 10 10 10 10 10
	○○ ○○ ○○ ○○		○○ ○○ ○○ ○○
90	10 10 10 10 10 10 10 10 10	69	10 10 10 10 10 10 10 10 10
	○○ ○○ ○○ ○○		○○ ○○ ○○ ○○



2 Dessine le bon nombre de dizaines et d'unités.

94	84
----	----

3 Compte les dizaines et les unités



	○○○		○○○ ○○
	10 10 10 10 10 10 10 10		10 10 10 10 10 10 10
	10 10 10 10 10 10 10 10 10		10 10 10 10 10 10 10 10 10 ○○○
	○○○ ○○		

4 Décompose ces nombres en dizaines et unités.

	9 dizaines 3 unités	89	
94			9 dizaines
	8 dizaines 8 unités	93	



Numération

Fiche 3

Les nombres de 0 à 99

1

Entoure le plus grand des deux nombres.

$98 - 89$

$93 - 36$

$94 - 21$

$64 - 97$

$79 - 97$

2

Entoure le plus petit des deux nombres.

$95 - 83$

$94 - 98$

$92 - 91$

$90 - 80$

$70 - 97$



3

Entoure les nombres plus petits que 91.

$98 - 28 - 87 - 96 - 97 - 23 - 41 - 95 - 64 - 88$

4

Entoure les nombres plus grands que 91.

$99 - 41 - 56 - 87 - 98 - 37 - 65 - 84 - 94 - 92$

5

Complète avec le signe $<$ ou le signe $>$. Exemple : $47 < 50$

$61 _ 91$

$94 _ 49$

$98 _ 89$

$56 _ 96$

$84 _ 94$

$12 _ 92$

$94 _ 98$

$91 _ 93$

$99 _ 79$





Numération

Fiche 4

Les nombres de 0 à 99

1

Complète avec le signe $<$ ou le signe $>$. Exemple : $47 < 80$

$97 _ 96$

$94 _ 49$

$84 _ 96$

$91 _ 94$

$69 _ 96$

$40 _ 90$

$94 _ 96$

$71 _ 91$

$80 _ 90$

$99 _ 94$

$98 _ 89$

$9 _ 94$

2

Range les nombres suivants dans l'ordre croissant.

94 - 82 - 65 - 78 - 34 - 84



— — — — —



3

Range les nombres suivants dans l'ordre décroissant.

9 - 69 - 49 - 29 - 69 - 99 - 79



— — — — —



4

Trouve le nombre encadré.

$96 < _ < 98$

$89 < _ < 91$

$90 < _ < 92$

$94 > _ > 92$

$90 > _ > 88$

$91 > _ > 89$



Numération

Fiche 5

Les nombres de 0 à 99

1

Trouve le nombre mystérieux.

Le nombre a 2 chiffres. Le chiffre des unités est 3.

La somme des chiffres est 12.

Le nombre mystérieux est : _____



Le nombre est plus grand que 84 et plus petit que 99.

La somme des chiffres est 11.

Le nombre mystérieux est : _____



Le nombre a 2 chiffres. Le chiffre des dizaines est plus grand que celui des unités. La somme des chiffres est 13.

C'est un nombre impair.

Le nombre mystérieux est : _____



Il est plus grand que 64 et plus petit que 99. Il n'y a pas de 7. La somme des chiffres est 15. Le nombre est pair.

Le nombre mystérieux est : _____