



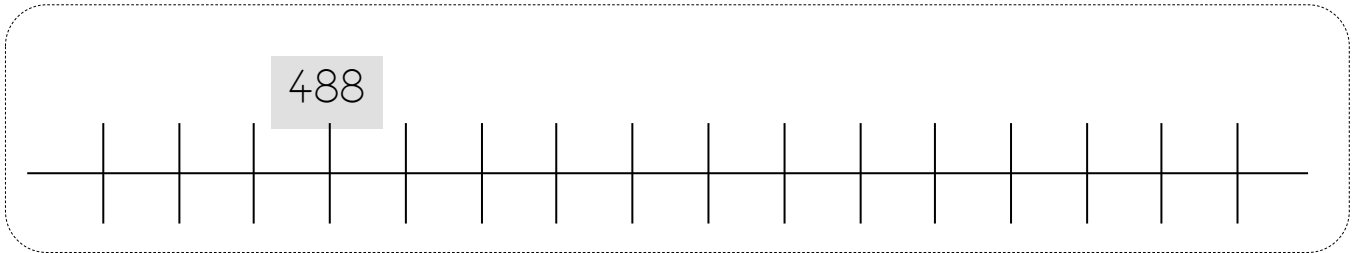
# Numération

Fiche 1

Les nombres de 0 à 999

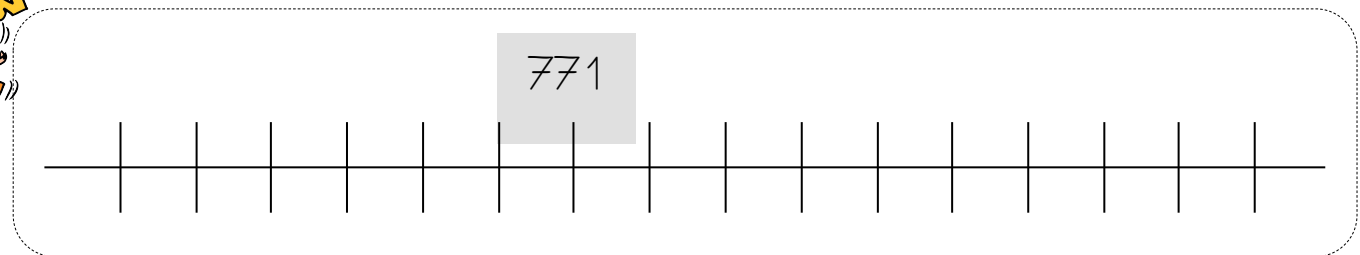
1 Place les nombres suivants sur la ligne graduée :

490 - 485 - 496 - 489 - 500



2 Place les nombres suivants sur la ligne graduée :

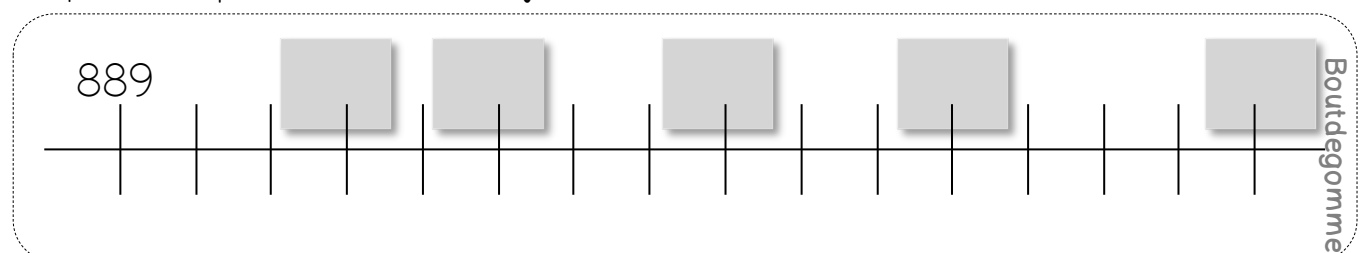
765 - 780 - 776 - 769 - 773



3 Complète uniquement les cases grises.



4 Complète uniquement les cases grises.





# Numération

Fiche 2

Les nombres de 0 à 999

1

Relie les nombres écrits en chiffres à leur écriture en lettres.

848 •

888 •

808 •

878 •

898 •

• huit-cent-soixante-dix-huit

• huit-cent-huit

• huit-cent-quarante-huit

• huit-cent-quatre-vingt-dix-huit

• huit-cent-quatre-vingt-huit

2

Écris ces nombres en lettres.

975 : \_\_\_\_\_

902 : \_\_\_\_\_

680 : \_\_\_\_\_

729 : \_\_\_\_\_

893 : \_\_\_\_\_

3

Écris ces nombres en chiffres.

cinq-cent-vingt-quatre : \_\_\_\_\_

six-cent-soixante-six : \_\_\_\_\_

sept-cent-neuf : \_\_\_\_\_

quatre-cent-cinquante-deux : \_\_\_\_\_

huit-cent-quatre-vingt-six : \_\_\_\_\_

sept-cent-soixante-dix-sept : \_\_\_\_\_





# Numération

Fiche 3

Les nombres de 0 à 999

1 Colorie le bon nombre de centaines, de dizaines et le bon nombre d'unités.

876

100 100 100 100 100 100 100 100 100

10 10 10 10 10 10 10 10 10

o o o o  
o o o o

950

100 100 100 100 100 100 100 100 100

10 10 10 10 10 10 10 10 10

o o o o  
o o o o

735

100 100 100 100 100 100 100 100 100

10 10 10 10 10 10 10 10 10

o o o o  
o o o o

208

100 100 100 100 100 100 100 100 100

10 10 10 10 10 10 10 10 10

o o o o  
o o o o

2 Dessine le bon nombre de centaines, de dizaines et d'unités.

628

99

3 Compte les centaines, les dizaines et les unités



100 100 100 100 100

10 10 10 10 10 10 10

o o  
o o



100 100 100 100 100 100 100

o o o o  
o o o o



100 100 100 100 100 100 100 100 100

10 10 10 10 10 10 10 10 10

o o o o  
o o o o



100 100 100 100 100 100 100 100

10 10 10



# Numération

Fiche 4

Les nombres de 0 à 999

1 Décompose ou écris ces nombres en centaines, dizaines et unités.

	8 centaines 9 dizaines 3 unités
904	
	8 centaines 8 unités
	7 dizaines 9 unités
469	
580	
	6 centaines 2 unités 3 dizaines

2 Entoure le plus grand des deux nombres. 3 Entoure le plus petit des deux nombres.

$236 - 580$

$496 - 652$

$298 - 134$

$369 - 769$

$870 - 375$



$456 - 489$

$653 - 691$

$702 - 720$

$689 - 698$

$744 - 745$



# Numération

Fiche 5

Les nombres de 0 à 999

1 Entoure les nombres plus petits que 645.

735 - 420 - 321 - 698 - 702 - 555 - 444 - 999

2 Entoure les nombres plus grands que 728.

897 - 654 - 321 - 789 - 456 - 123 - 902 - 730

3 Complète avec le signe  $<$  ou le signe  $>$ . Exemple :  $47 < 50$

621 \_\_\_ 791

147 \_\_\_ 174

87 \_\_\_ 870

456 \_\_\_ 842

468 \_\_\_ 486

91 \_\_\_ 915

465 \_\_\_ 269

258 \_\_\_ 285

65 \_\_\_ 605

4 Range les nombres suivants dans l'ordre croissant.

598 - 846 - 236 - 798 - 789 - 864



\_\_\_



5 Range les nombres suivants dans l'ordre décroissant.

204 - 402 - 240 - 420 - 24 - 42



\_\_\_





# Numération

Fiche 6

Les nombres de 0 à 999

1 Complète avec le signe  $<$  ou le signe  $>$ . Exemple :  $47 < 50$



970 \_\_\_ 907

950 \_\_\_ 95

654 \_\_\_ 645

645 \_\_\_ 654

213 \_\_\_ 312

805 \_\_\_ 508

769 \_\_\_ 669

703 \_\_\_ 730

2 Trouve le nombre qui convient.

756  $<$  \_\_\_  $<$  758

689  $<$  \_\_\_  $<$  691

899  $<$  \_\_\_  $<$  901

498  $<$  \_\_\_  $<$  500

878  $<$  \_\_\_  $<$  880

99  $<$  \_\_\_  $<$  101

3 Encadre ces nombres.

\_\_\_  $<$  680  $<$  \_\_\_

\_\_\_  $>$  946  $>$  \_\_\_

\_\_\_  $<$  800  $<$  \_\_\_

\_\_\_  $>$  798  $>$  \_\_\_

\_\_\_  $<$  99  $<$  \_\_\_

\_\_\_  $>$  998  $>$  \_\_\_



4 Compte de 699 à 704.

— — — — —



# Numération

Fiche 7

Les nombres de 0 à 999

1 Trouve le nombre mystérieux.



Le nombre a 3 chiffres. Le chiffre des unités est 3. Le chiffre des dizaines est le double de celui des unités. La somme des chiffres est 12.

Le nombre mystérieux est : \_\_\_\_\_

Le nombre a 3 chiffres. C'est 3 fois le même nombre. La somme de ces chiffres est 12.

Le nombre mystérieux est : \_\_\_\_\_



Le nombre a 3 chiffres. Le chiffre des centaines est la moitié de celui des unités. Le chiffre des dizaines est 4. Le chiffre des unités est 6.

Le nombre mystérieux est : \_\_\_\_\_



Le nombre est plus grand que 726 et plus petit que 810. Il n'a pas de 1 ni de 0. Son chiffre des dizaines est 3 et celui des unités est le double de celui des dizaines.

Le nombre mystérieux est : \_\_\_\_\_